




4 Teile zwei Tafeln Schokolade gerecht auf fünf Personen auf.





5 Erkläre dein Vorgehen.



6 Marie, Johanna und Melanie wollen die Tafel Weiße Schokolade gerecht untereinander aufteilen.

a) Erkläre, wie die Tafel Schokolade gerecht aufgeteilt werden kann und benenne die Schwierigkeit.



b) Gib jeweils die Anzahl an Personen an, für die die Einteilung der Schokolade ohne Schwierigkeiten genutzt werden kann.

Anzahl Personen	Anzahl Stücke pro Person	Anteil vom Ganzen
1	20	20 von 20 Stücken = = 1 Ganzes